

Contrôle Continue (Durée : 2h)

Questions de cours (5pts)

المكتب الجامعي  
التشغيل الذاتي  
INDH

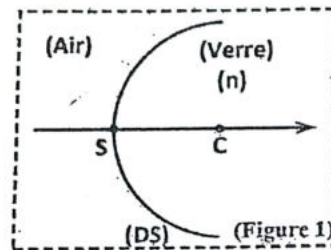
1. Pour un miroir sphérique concave de sommet  $S$  et de centre  $C$  :

- Démontrer la relation de conjugaison origine au sommet pour le couple de points conjugués  $(A, A')$ .
- Déterminer la position des foyers objet et image.
- Si  $AB$  un objet à pour image  $A'B'$ , le grandissement transversal est défini par le rapport algébrique  $\gamma = \frac{A'B'}{AB}$ . Établir son expression en fonction de  $\overline{SA}$  et  $\overline{SA'}$ .

2. Montrer qu'un miroir sphérique convexe ne peut jamais donner une image réelle d'un objet réel.

Exercice 1 (8pts)

On considère un dioptré sphérique (DS) de centre  $C$ , de sommet  $S$  et de rayon de courbure  $\overline{SC} = R$  (voir figure 1). L'indice de l'air est égale à 1.



- Donner la définition d'un dioptré.
- Quelle est la concavité de ce dioptré sphérique (DS).
- Sans faire de calcul, quelle est la nature de ce dioptré sphérique. Justifier votre réponse.
- Calculer la valeur d'angle de réfraction limite  $i'_{lim}$  pour  $n = 1.5$ .

Dans toute la suite, le système sera étudié dans les conditions de Gauss.

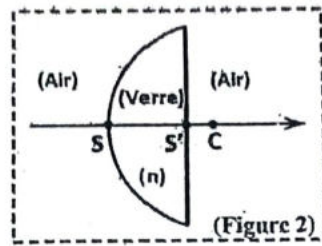
5. Donner la relation de conjugaison du (DS) pour le couple conjugué  $(A, A')$  avec origine au sommet  $S$  en fonction de  $n$  et  $R$ .

6. Dédurre la position des foyers principaux  $F$  et  $F'$  du (DS) par rapport à  $S$  en fonction de  $n$  et  $R$ .

7. Calculer les valeurs en cm des distances focales  $f$  et  $f'$  pour  $n = 1.5$  et  $R = 10$  cm.

8. Quelle doit être la position, par rapport à  $S$  sur l'axe optique, d'un objet  $(AB)$  pour que son image  $(A'B')$  à travers le (DS) soit renversée et deux fois plus grande que l'objet. Faire l'application numérique pour  $n = 1.5$  et  $R = 10$  cm.

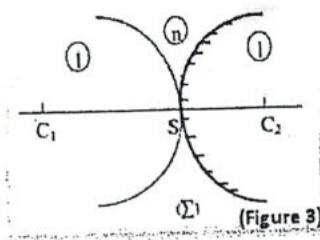
9. Par construction géométrique, déterminer la position et la taille de l'image  $AB$  d'un objet  $AB$  droit et de taille 10 cm situé au centre du dioptre  $C$  pour  $n = 1.5$  et  $R = 10$  cm.
10. Que devient ce dioptre sphérique si le rayon de courbure  $R$  tend vers l'infini.  
Le milieu de réfraction d'indice  $n$  est maintenant limité par une surface plane (Figure 2).



11. Dans le cas où  $SS' \ll R$ , déterminer la relation de conjugaison de ce système pour un objet  $A$  et son image finale  $A'$  en fonction de  $n$  et  $R$ . (On prendra  $S \equiv S' \equiv O$ , où  $O$  est le centre optique du système).

### Exercice 2 (7pts)

On considère un système catadioptrique  $(\Sigma)$  d'indice  $n$ , plongé dans l'air constitué d'un dioptre sphérique (DS), de sommet  $S$  et de centre  $C_1$ , et d'un miroir sphérique (MS), de même sommet  $S$  et de centre  $C_2$  (voir figure 3).



1. En supposant qu'à travers  $(\Sigma)$ , un objet  $A$  peut avoir trois images  $A_0$ ,  $A_1$  et  $A'$  selon le trajet suivant :

$$A \xrightarrow{DS} A_0 \xrightarrow{MS} A_1 \xrightarrow{DS} A'$$

- (a) Écrire la formule de conjugaison relative à chaque passage en considérant l'origine au sommet  $S$ .
2. En déduire la formule de conjugaison du système  $(\Sigma)$ , reliant les points conjugués  $A$  et  $A'$ .
3. Montrer que le système  $(\Sigma)$  est équivalent à un miroir sphérique de sommet  $S$  et de centre  $C$  dont on déterminera le rayon de courbure  $R = \overline{SC}$  en fonction de  $R_1 = \overline{SC_1}$ ,  $R_2 = \overline{SC_2}$  et  $n$ .
4. Quelle est la nature de ce miroir équivalent.

Examen d'optique

المكتب الجامعي  
التشغيل الذاتي  
INDH

**Exercice I (5 pts):**

- Un objet est observé à travers une lentille ( $L$ ) de vergence  $C = -4 \delta$
1. Montrer que cette lentille donne toujours d'un objet réel une image virtuelle.
  2. Construire l'image  $A'B'$  d'un objet  $AB$  droit et réel, de taille de  $10 \text{ cm}$  situé à  $30 \text{ cm}$  du centre de la lentille. Conclure.
  3. Où situer l'objet par rapport à la lentille pour que l'image qu'elle en donne ait le grandissement  $\frac{1}{2}$  ?

**Exercice II (7 pts):**

On rappelle la forme des équations de Maxwell en présence de charges ( $\rho$ ) et de courants ( $j$ ):

1) Maxwell - Gauss:  $\text{div} \vec{E} = \frac{\rho}{\epsilon_0}$       3) Maxwell - Faraday:  $\text{rot} \vec{E} = -\frac{\partial \vec{B}}{\partial t}$

2) Maxwell - Thomson:  $\text{div} \vec{B} = 0$       4) Maxwell - Ampère:  $\text{rot} \vec{B} = \mu_0 (\vec{j} + \epsilon_0 \frac{\partial \vec{E}}{\partial t})$

ainsi que la formule du « double rotationnel »:  $\text{rot}(\text{rot} \vec{C}) = \text{grad}(\text{div} \vec{C}) - \Delta \vec{C}$  où  $\vec{C}$  est un vecteur, et  $\Delta \vec{C}$  son Laplacien.

1. A partir des équations de Maxwell, établir l'équation de propagation du champ électrique dans le vide
2. On considère un champ  $\vec{E}$  au point  $M(x, y, z)$ , à l'instant  $t$ , dans un repère cartésien orthonormé direct  $(O, \vec{u}_x, \vec{u}_y, \vec{u}_z)$ :

$$\vec{E}(M, t) = (E_0 \vec{u}_x + E'_0 \vec{u}_y) \cos(\omega t - ay)$$

Où  $a$  est une constante positive.

Montrer que  $a = \frac{\omega}{c}$  et  $E'_0 = 0$  pour que  $\vec{E}(M, t)$  puisse représenter une onde

électromagnétique dans le vide

On suppose désormais que le champ ainsi obtenu et le champ électrique d'une onde ( $\Omega$ )

3. Donner l'état de polarisation de cette onde ( $\Omega$ )

4. A partir des équations de Maxwell, déduire l'expression du champ magnétique  $\vec{B}$  associé.

Pour ce faire, on ne s'intéressera qu'à la partie variable dans le temps des champs, c'est-à-dire que les constantes d'intégration seront prises nulles.

5. Cette onde est-elle plane ? justifier

**Exercice III (8 pts).**

On considère deux sources ponctuelles  $S_1$  et  $S_2$  distantes de  $a$  (voir figure 1) et placées à la distance  $D$  d'un écran. L'indice de réfraction de l'air où se déroule l'expérience est  $n=1$ .




Figure 1

1. A quelles conditions sur  $S_1$  et  $S_2$  peut-on observer des interférences ?
2. Comment peut-on remplir ces conditions

On suppose pour la suite que ces conditions sont réalisées.

3. Qu'observe-t-on sur l'écran
4. Qu'appelle-t-on différence de marche  $\delta(M)$ , ordre d'interférence  $P(M)$  et déphasage  $\phi(M)$  au point  $M$  ? les exprimer en fonction de la position  $x$  du point  $M$  sur l'écran
5. Donner, en le justifiant, l'expression de l'intensité obtenue sur l'écran au point  $M$ .
6. Déterminer la position sur l'écran des maxima et des minima de lumière. Qu'appelle-t-on interfrange  $i$  ? Donner son expression.

**Application numérique :** La troisième frange brillante à partir de la frange centrale est à  $3 \text{ mm}$  du point  $O$ . On donne  $D=2\text{m}$ ;  $\lambda=0,5\mu\text{m}$ . Déterminer la distance  $a$  entre les deux fentes  $F_1$  et  $F_2$ .

7. On place, uniquement sur le chemin suivi par la lumière de  $S_1$  à  $M$ , une lame de verre d'indice  $n=1,5$ . Le rayon lumineux traverse alors une épaisseur  $e$  de verre.

Calculer la nouvelle différence de marche. Comment est modifié le système de franges ?

Où est située la frange d'ordre d'interférence  $0$ .

**Application numérique :** Déterminer l'épaisseur de la lame si la frange centrale s'est déplacée de

$10 \text{ cm}$

8. On retire la lame de verre précédente. Les sources identiques sont des sources de lumière blanche ( $0,4 \mu\text{m} < \lambda < 0,75 \mu\text{m}$ ). Qu'observe-t-on alors sur l'écran ?